

# 【北师大版单元测试系列试卷】

## 二年级数学上册第八单元

智慧山育儿微信公众号



扫描微信扫描二维码关注公众号可持续获取小学阶段的学习资料和老师课程

## 北师大版二年级数学上册第八单元测验试题

( 满分 : 100 分 时间 : 60 分钟 )

题号	一	二	三	四	五	六	七	总分
分数								

### 一、填一填。

1. 根据口诀“八九七十二”，可以写出的两道乘法算式分别是(            )、  
(            )。

$$2. 8+8+8+8+8+8+8+8 = \square \times \square \qquad 9 \times 4 + 9 = \square \times \square$$

3. 8 的 7 倍是(            ); (            ) 是 9 的 4 倍。

4. 一个乘数是 7, 另一个乘数是 9, 积是(            )。

### 二、把口诀补充完整。

二九(    )    三(    )二十一    (    )十五    (    )六十八

七九(    )    (    )四十九    四七(    )    六六(    )

### 三、算一算。

$$8 \times 5 = \qquad 7 \times 6 = \qquad 6 \times 8 = \qquad 6 \times 7 + 7 =$$

$$9 \times 3 = \qquad 7 \times 7 = \qquad 9 \times 9 = \qquad 8 \times 3 + 8 =$$

$$8 \times 9 = \qquad 4 \times 8 = \qquad 4 \times 9 = \qquad 7 \times 6 - 7 =$$

$$8 \times 8 = \qquad 9 \times 5 = \qquad 7 \times 8 = \qquad 8 \times 9 - 9 =$$

### 四、在○里填上“>”“<”或“=”。

$$36 + 42 \bigcirc 8 \times 9 \qquad 7 \times 7 \bigcirc 48 \qquad 18 - 9 \bigcirc 3 \times 4$$

$$2 \times 9 \bigcirc 4 \times 4 \qquad 7 \times 8 \bigcirc 6 \times 9 \qquad 37 - 2 \bigcirc 5 \times 7$$

### 五、在(    )里填上合适的数。

$5 \times ( ) = 35$

$( ) \times 9 = 54$

$6 \times ( ) = 48$

$( ) \times 9 = 63$

$5 \times ( ) = 40$

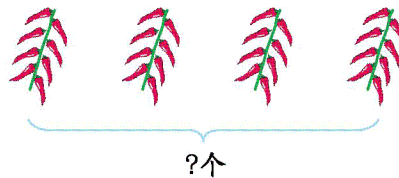
$( ) \times 9 = 6 \times 3$

## 六、看图列式计算。

1.

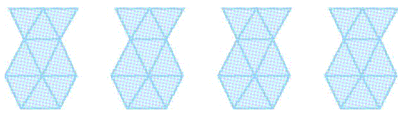


$\square \circ \square = \square \text{ (个)}$



$\square \circ \square = \square \text{ (个)}$

2.



$\square \circ \square = \square \text{ (个)}$

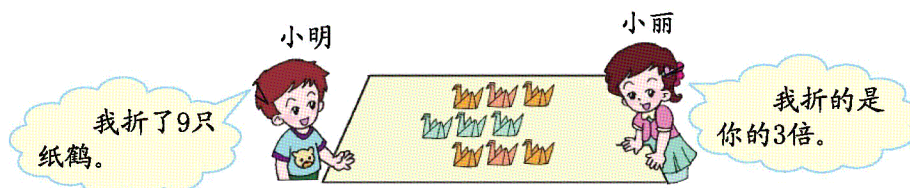


$\square \circ \square = \square \text{ (个)}$


## 七、解决问题。

1. 二(2)班的同学分成 5 组玩老鹰捉小鸡的游戏,每组有 6 人。二(2)班共有多少名同学?(5 分)

2. 小丽折了多少只纸鹤?



3.



(1)一件上衣的价钱是一个文具盒的8倍,一件上衣多少元?

(2)买7支钢笔,一共要花多少元?

4.



爸爸每周工作5天,共多少时?