

【北师大版单元测试系列试卷】

二年级数学上册第七单元

智慧山育儿微信公众号




扫描微信扫描二维码关注公众号可持续获取小学阶段的学习资料和老师课程

北师大版二年级数学上册第七单元测验试题

(满分:100分 时间:60分钟)

题号	一	二	三	四	五	六	七	总分
分数								

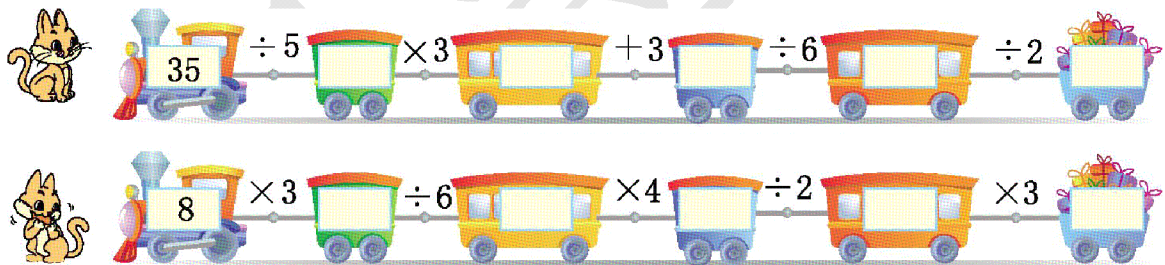
一、下面哪种分法是平均分?在()里画“√”。



二、算一算。

$$\begin{array}{ccccc}
 12 \div 3 = & 27 \div 3 = & 35 \div 5 = & 32 \div 8 = & 25 \div 5 = \\
 24 \div 8 = & 18 \div 2 = & 45 \div 9 = & 3 \times 9 = & 2 \times 7 = \\
 6 \div 6 = & 16 \div 8 = & 16 \div 4 = & 28 \div 7 = & 12 \div 4 =
 \end{array}$$

三、比比哪只小猫快?




四、在○里填上“>”“<”或“=”。


$$\begin{array}{cccc}
 4 \times 8 \bigcirc 6 \times 5 & 28 \div 4 \bigcirc 2 \times 3 & 4 \times 4 \bigcirc 25 \div 5 & 0 \times 5 \bigcirc 1 \times 5 \\
 8 \times 4 \bigcirc 35 \div 7 & 18 \div 6 \bigcirc 27 \div 9 & 21 \div 7 \bigcirc 2 \times 3 & 16 \div 4 \bigcirc 4 \times 1
 \end{array}$$

五、看图填一填。



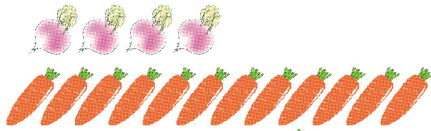
(1) 8个,每2个分一份,分成()份。

$$\square \div \square = \square$$

(2) 8 个 , 平均分成 4 份, 每份()个。

$$\square \div \square = \square$$

2.



12 里面有()个 4,  的根数是  的()倍。

$$\square \bigcirc \square = \square$$


六、看图列式。

1.



$$\square \times \square = \square \quad \square \div \square = \square$$

2.



$$\square \times \square = \square \quad \square \div \square = \square$$

七、解决问题。

1. 梅梅平均每天看几页?



32 页


我 4 天就看完了。



梅梅

2.有 9 人参加游泳小组,有 18 人参加溜冰小组。

参加溜冰小组的人数是参加游泳小组的几倍?



3.



把这些糖平均分给 6 人。



(1) 一共有多少块糖?

(2) 平均每人分多少块?

4.服装厂用 6 米布做了 3 套学生校服,做 5 套校服需要多少米布?