

【北师大版单元测试系列试卷】

二年级数学上册第六单元

智慧山育儿微信公众号



扫描微信扫描二维码关注公众号可持续获取小学阶段的学习资料和老师课程

北师大版二年级数学上册第六单元测验试题

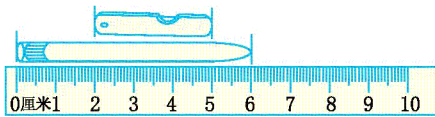
(满分:100分 时间:60分钟)

题号	一	二	三	四	五	六	总分
分数							

一、填一填。

1.测量铅笔的长度用()作单位比较合适;测量床的长度用()作单位比较合适。

2.



油画棒长()厘米;

3.2米=()厘米

300厘米=()米

30厘米-6厘米=()厘米


45厘米+20厘米=()厘米

4.甜甜身高90厘米,再长()厘米,她的身高就是1米。

二、在括号里填上合适的长度单位。



亮亮身高120()。



教室长10()。



杯子高10()。



黄瓜长20()。



课桌高80()。



跳绳长2()。



床长2()。



楼高30()。

三、在○里填上“>”“<”或“=”。

1米○90厘米

2米○200厘米

100厘米○1米

20厘米○1米-80厘米

50厘米○5米

1米80厘米○2米

四、做一做。

1.量出下面线的长度。

() 厘米



2.画一条 4 厘米长的线。

五、谁说的对?在括号里画“√”。



六、解决问题。

1.你知道蚯蚓的身体有多长吗?(6分)

钻出地面的身体长
15厘米,地下还藏着4厘米。



2.有一根绳子,剪去 30 厘米后,还剩 70 厘米。这根绳子原来长多少米?(7分)

3.选一选,填一填。




95 厘米 1 米 25 厘米 1 米 30 厘米 3 米

(1)妞妞的身高是(),小军的身高是(),丫丫的身高是(),小树的高度是()。

(2)把丫丫、妞妞和小军的身高按从矮到高的顺序排一排。

4.小动物赛跑。



(1)蜗牛离终点还有多少厘米?

(2)蚂蚁比小虫子多爬多少厘米?