

## 【北师大版单元测试系列试卷】

### 二年级数学上册第五单元

智慧山育儿微信公众号



扫描微信扫描二维码关注公众号可持续获取小学阶段的学习资料和老师课程

# 北师大版二年级数学上册第五单元测验试题

(满分:100分 时间:60分钟)

题号	一	二	三	四	五	总分
分数						

## 一、填一填。

1. 求几个相同加数的和用( )计算比较简便。

2.  $4 \times 3 = ( )$ , 读作( ), 用口诀( )来计算。

3.  $4+4+4+4+4 = \square \times \square$        $1+1+1+1+1+1 = \square \times \square$

4. 在  $\bigcirc$  里填上 “+” “-” 或 “ $\times$ ”。

$5 \bigcirc 5 = 10$        $1 \bigcirc 3 = 5 \bigcirc 2$        $2 \bigcirc 6 = 12$

5. 根据口诀“三六十八”可以写出两道乘法算式是( )和( )。

6. 写出4道积是18的乘法算式:( )、( )、( )、( )。

## 二、把口诀补充完整。

二四( )      ( )十五      ( )七三十五      ( )十六

( )三十      ( )六十八      四六( )      ( )五二十五

## 三、计算题。

1. 算一算。

$5 \times 3 =$        $4 \times 2 =$        $2 \times 6 =$        $3 \times 6 =$

$4 \times 4 =$        $6 \times 1 =$        $2 \times 3 =$        $5 \times 5 =$

$2 \times 4 + 3 =$      $3 \times 5 - 4 =$      $6 \times 5 - 10 =$      $5 \times 4 + 3 =$

2. 在括号里填上合适的数。

$4 \times ( ) = 24$

$( ) \times 6 = 18$

$3 \times ( ) = 3$

$( ) \times 5 = 15$

$6 \times ( ) = 30$

$4 \times ( ) = 16$

四、看图列式计算。


1.



加法算式: \_\_\_\_\_

乘法算式: \_\_\_\_\_

2.



$\square \circ \square = \square ( )$

口诀: \_\_\_\_\_

3.



$\square \times \square = \square ( )$


4.



$\square \times \square = \square ( )$

五、解决问题。

1. 一共有多少只蚂蚁在过河?



## 2.丰富多彩的课余生活。




(1)一共有多少人在做操?

(2)踢毽子和跳绳的各有多少人?

3.



3 元/盒



6 元/个



2 元/本



5 元/支

(1)买 4 个文具盒需要多少元?

(2)买 5 盒蜡笔和一本笔记本需要多少元?

(3)提出一个用乘法解决的问题并解答出来。