

【北师大版单元测试系列试卷】

二年级数学上册第四单元

智慧山育儿微信公众号



扫描微信扫描二维码关注公众号可持续获取小学阶段的学习资料和老师课程

北师大版二年级数学上册第四单元测验试题

(满分 : 100 分 时间 : 60 分钟)

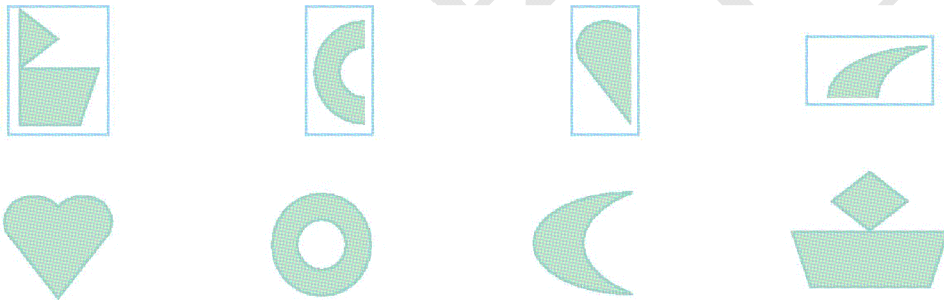
题号	一	二	三	四	五	六	七	八	总分
分数									

一、夺红旗。

$48 \xrightarrow{+24} \square \xrightarrow{-37} \square \xrightarrow{+18} \square \xrightarrow{-23} \square \xrightarrow{+16} \square$

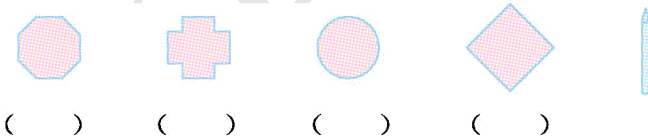
$25 \xrightarrow{+36} \square \xrightarrow{-47} \square \xrightarrow{+58} \square \xrightarrow{-23} \square \xrightarrow{+19} \square$

二、第二行的图形分别是第一行的哪张纸剪成的?连一连。

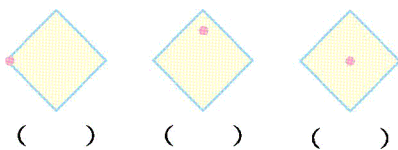


三、选一选。

1. 用下面的小棒和硬纸板做陀螺, 哪张硬纸板做成的陀螺转得更稳? 在合适的硬纸板下面画“√”。



2. 把小棒插到硬纸板的红点上, 哪张硬纸板做成的陀螺转得最稳? 在合适的硬纸板下面画“√”。



四、算一算。

$55+30+8=$

$56-3+9=$


$36-4-32=$

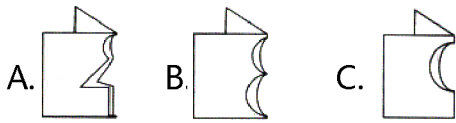
$81-7-70=$

$37+10-5=$


$74+6-80=$

五、选择。

(1)  图案是从下面 () 张纸上剪下来的。



(2) 下面图形的运动，属于旋转的有 () 个。




A


C

D

六、说一说,用一张方格纸,怎样剪一刀,能得到如下图的十字。



七、怎样移动其他三种小动物,小狗才能安全通过出口逃生?



八、老山羊怎样才能到草场吃草?

