

# 【北师大版单元测试系列试卷】

## 二年级数学上册第三单元

智慧山育儿微信公众号



扫描微信扫描二维码关注公众号可持续获取小学阶段的学习资料和课程


# 北师大版二年级数学上册第三单元测验试题

( 满分 : 100 分 时间 : 60 分钟 )

题号	一	二	三	四	五	六	七	总分
分数								

## 一、数一数,说一说,写算式。

1.



( ) 个 5

加法算式是 ( )。


2.



5 个 ( )

加法算式是 ( )。

3.



( ) 个 ( ), 加法算式是 ( )。

## 二、填一填。

1. 在加法算式  $8+8+8+8+8+8$  中, 相同的加数是 ( ), 相同的加数的个数是

( ), 写成乘法算式是 ( ) 或 ( )。

2. 在算式  $3 \times 4 = 12$  中, 3 和 4 是 ( ), 12 是 ( )。

3.  $3 \times 5$  读作( ), 表示( )个( )相加或( )个( )相加。

4. 用乘法算式表示 5 个 9 相加是( ) $\times$ ( )或( ) $\times$ ( )。

### 三、选一选。(把正确答案的序号填在括号里)

1.  $2 \times 3 \circ 2 + 3$ ,  $\circ$ 里应填( )。

- ①  $>$                   ②  $<$                   ③  $=$

2. 3 个 6 相加的和是多少?错误的算式是( )。

- ①  $3 \times 6$               ②  $3 + 6$               ③  $6 + 6 + 6$

3. 与  $4 \times 5$  结果不相同的算式是( )

- ①  $4 \times 4 + 4$         ②  $4 + 5$               ③  $5 \times 5 - 5$

4.  $3 + 1 + 4 + 1 + 3$ , 可写成算式( )。

- ①  $3 \times 5$               ②  $4 \times 5$               ③  $4 \times 3$

### 四、判断题。(对的画“√”, 错的画“×”)

1. 加法算式都可以改写成乘法算式。( )

2.  $3 + 2$  可以写成  $3 \times 2$ 。( )

3.  $5 \times 3$  表示 5 个 3 相乘。( )

4.  $10 + 10 + 10 + 10 = 10 \times 4 = 4 \times 10$  ( )

5. 求几个相同加数的和用加法计算比较简便。( )

### 五、改写算式。

$$2 + 2 = \square \times \square$$

$$6 + 6 + 6 = \square \times \square$$

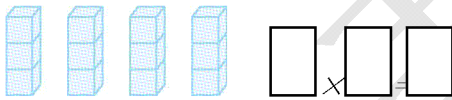

$$6+6+6+6+6=\square\times\square$$

$$7+7+7+7+7=\square\times\square$$

$$3+3+3+3=\square\times\square$$

$$5+5+5+5=\square\times\square$$

### 六、看图列式计算。




### 七、解决问题。

1. 8 盘有多少个？




$$\square\times\square=\square(\quad)$$

2. 买这 3 只玩具狗一共要用多少元？



$$\square\times\square=\square(\quad)$$

3.一共有多少只蝴蝶?



$$\square \times \square = \square ( )$$

4.一共有多少条鱼?



$$\square \times \square = \square ( )$$

智慧山