

【北师大版单元测试系列试卷】

二年级数学上册第二单元

智慧山育儿微信公众号



扫描微信扫描二维码关注公众号可持续获取小学阶段的学习资料和老师课程

北师大版二年级数学上册第二单元测验试题




(满分 : 100 分 时间 : 60 分钟)

题号	一	二	三	总分
分数				

一、填一填。

1. 一张  可以换 () 枚 .







2. 一张  可以换 () 张 , 也可以换 () 张 , 还可以换 () 张 .

3. 一张  可以换 () 张  和 () 张 .



4. () 元 () 元 () 角

5.

要买的物品	 3角	 1元5角	 20元
付的钱			
应找回的钱	() 角	() 角	() 元

二、选一选。(把正确答案的序号填在括号里)

1. 一支钢笔的价钱大约是 ()。

- ① 8 元 ② 8 角 ③ 8 分

2. 小华有 8 元 3 角, 买  用去 8 元, 还剩 ()。

- ① 8 元 ② 8 角 ③ 3 角

3. 一瓶墨水 2 元 4 角, 一本练习本 5 角, 买一瓶墨水和一本练习本要付 ()。

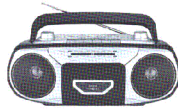
- ① 2 元 9 角 ② 7 元 4 角 ③ 3 元

三、解决问题。

1.



42元



80元



28元



9元

(1)录音机比书贵多少元?

(2)小青买电话机找回 8 元,小青付了多少钱?

(3)淘气有 70 元,正好可以买哪两件物品?

2.



1元2角




2元9角



35元



8元5角



12元



42元7角

(1)买玩具汽车和小熊,一共需要多少钱?

(2)买布娃娃和玩具汽车,付了 100 元,应找回多少钱?

(3)买积木应怎样付钱?

3.



6元



51元



7元



4元



9元



36元

(1)买一个小熊和一副七巧板,一共要多少元?

(2)布娃娃比排球贵多少元?

(3)小军买一只玩具猫,营业员找回 3 元,他付了多少元?

(4)丽丽用 13 元正好买了两种玩具,她可以买哪两种玩具?