

【北师大版单元测试系列试卷】

一年级数学下册第一单元

智慧山育儿微信公众号



扫描微信扫描二维码关注公众号可持续获取小学阶段的学习资料和课程

## 北师大版一年级数学下册第一单元测验试卷

题号	一	二	三	四	五	六	七	八	九	总分
分数										

### 一、计算。（12分）

12-6=	11-2=	16-7=	4+8=
17-8=	12-3=	17-9=	6+7=
13-7=	11-7=	14-7=	9+5=



### 二、填一填。（8分）

- 1、6比13少（    ），15比6多（    ）。
- 2、妈妈买回13个桃子，吃了一些后还剩下6个，吃了（    ）个。
- 3、给每只小动物1个雪梨，还差（    ）个。



- 4、7再添上（    ）就是15，5加（    ）等于14。
- 5、（    ）比12小5，（    ）比12大5。

### 三、算一算，给小鱼排排队。（将结果填入鱼缸中）（10分）



### 四、在（ ）里填上“<”“>”或“=”。（6分）

18-9（    ）17-8	16-8（    ）5+0
15-6（    ）18-9	11-2（    ）3+8
14-6（    ）15-7	15-8（    ）16-7

**五、小蜜蜂采花蜜。（算一算，连一连）（10分）**


$6+7$



$13-4$



$13-8$



$17-4$



$16-9$



$15-6$



$12-5$



$9-0$



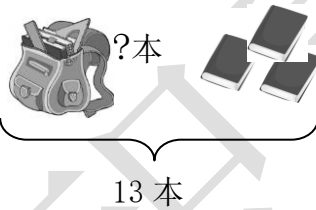
$5+8$



$14-7$

**六、看图列式（16分）**

1、



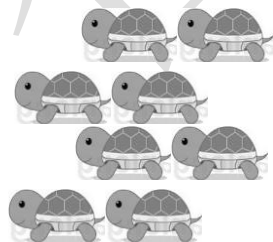
$\square \bigcirc \square = \square$  (本)

2、

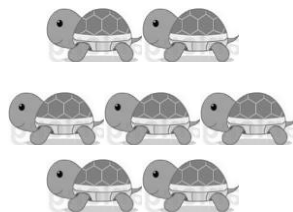


$\square \bigcirc \square = \square$  (只)

3、





$\square + \square = \square$  (只)



$\square - \square = \square$  (只)

**七、谁多? 多几?（10分）**



(1) 昆虫类(蝴蝶、蜻蜓):



( ) 多

$$\square - \square = \square \text{ (只)}$$

(2) 水果类 (菠萝、梨子):




( ) 多

$$\square - \square = \square \text{ (个)}$$

### 八、解决问题。(28分)

1. (13分)



(1) ( ) 个, ( ) 个, ( ) 个



(2) 比 少 ( ) 个。  $\square \bigcirc \square = \square$  (个)

(3) 下面的算式解决的是什么问题?

$$11 - 8 = \square \text{ (个)}$$

解决的问题是: \_\_\_\_\_

2. (15分)



(1) 羊和小蜜蜂一共有几只?

$$\square \bigcirc \square = \square \text{ (只)}$$

(2) 小蜜蜂比小鸟少几只?

$$\square \bigcirc \square = \square \text{ (只)}$$

(3) 请你提出一个数学问题, 并列式。

### 九、附加题

17 个小朋友排成一队, 华华前面有 8 人, 你知道华华后面有多少人吗?

---