

【北师大版单元测试系列试卷】

一年级数学上册第八单元

智慧山育儿微信公众号




扫描微信扫描二维码关注公众号可持续获取小学阶段的学习资料和课程

北师大版一年级数学上册第八单元测验试题

(满分：100分 时间：60分钟)

题号	一	二	三	四	五	六	七	八	总分
分数									

一、钟面上各是几时?



二、下面的时间对吗?正确的画“√”,错误的在()中改正。



10:00 ()



3:30 ()



12:00 ()



1:30 ()

三、连一连。




11:00



6:00



9:00



4:00

四、用两种方法表示钟面上的时间。











五、根据时间,画出钟面上的时针和分针。




8时



7时半



6时



3时半



12时

六、半时后是几时?




()



()






()

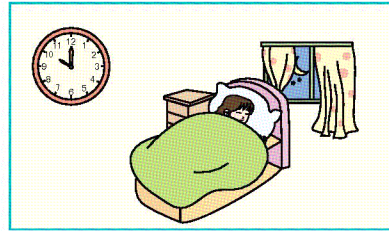


()

七、明明的一天。(连一连)



八、钟面上怎么都是 10?



智慧山