

## 【北师大版单元测试系列试卷】

### 一年级数学上册第七单元

智慧山育儿微信公众号



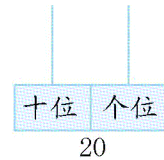
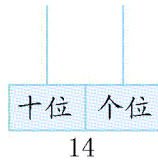
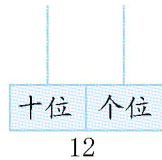
扫描微信扫描二维码关注公众号可持续获取小学阶段的学习资料和课程

# 北师大版一年级数学上册第七单元测验试题

(满分：100分 时间：60分钟)

题号	一	二	三	四	五	六	七	八	总分
分数									

## 一、画一画。



## 二、填一填。

- 13 的个位上是( ),十位上是( )。
- 19 里面有( )个十和( )个一。1 个十和 5 个一合起来是( )。
- 比 14 多 1 的数是( ),比 14 少 1 的数是( )。

## 三、算一算。

$$14+4= \quad 16-5= \quad 9+6= \quad 7+9= \quad 8+3=$$

$$4+8= \quad 7+7= \quad 9+8= \quad 15-3= \quad 6+6=$$

## 四、在○里填上“>”“<”或“=”。

$$10 \bigcirc 19 \quad 4+11 \bigcirc 15 \quad 11-4 \bigcirc 11-5 \quad 14-6 \bigcirc 15-6$$

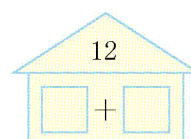
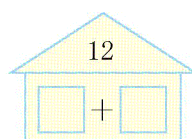
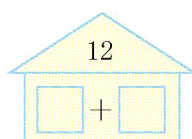
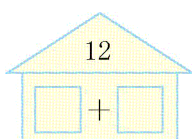
$$19 \bigcirc 20 \quad 16-7 \bigcirc 16 \quad 15+2 \bigcirc 8+9 \quad 8+8 \bigcirc 18$$

## 五、在□里填上“+”或“-”。

$$16 \square 6=10 \quad 7 \square 8=15 \quad 10 \square 10=20 \quad 14 \square 2=16$$


$$9 \square 5=14 \quad 17 \square 1=16 \quad 18 \square 6=12 \quad 18 \square 3=15$$

## 六、想一想填一填。




## 七、看图填一填。

1.



2.一共有几个?




## 八、解决问题。

1.




2.



$$\square \bigcirc \square = \square$$

3. 苹果树和梨树一共有多少棵?



$$\square \bigcirc \square = \square$$