

## 【北师大版单元测试系列试卷】

## 一年级数学上册第六单元

智慧山育儿微信公众号



扫描微信扫描二维码关注公众号可持续获取小学阶段的学习资料和课程

# 北师大版一年级数学上册第六单元测验试题

(满分:100分 时间:60分钟)

题号	一	二	三	四	五	六	七	总分
分数								

## 一、想一想,填一填。

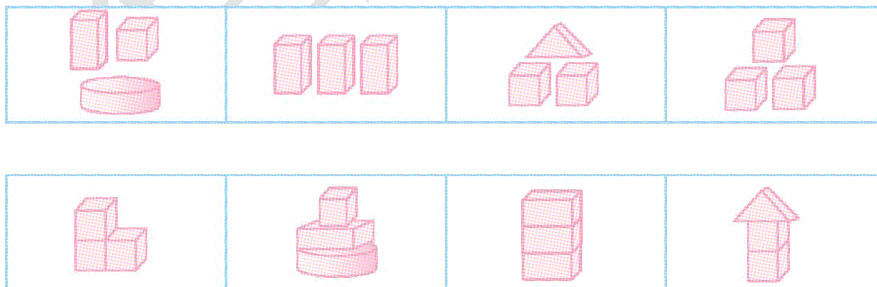


- 从左边数起,圆柱是第( )个,从右边数是第( )个。
- 长方体有( )个,正方体有( )个,长方体比正方体多( )个。
- 把从右边数第5个图形圈起来。

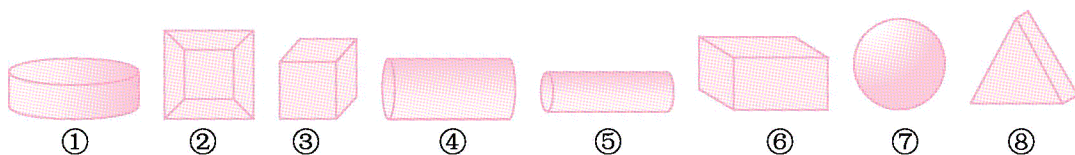
## 二、数一数。



## 三、找出用相同积木搭起来的图形,用线连起来。

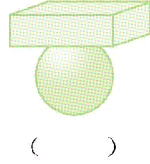


## 四、把能滚动的图形圈起来。



### 五、选一选。

1. 在能站稳的下面画“△”，站不稳的下面画“○”。

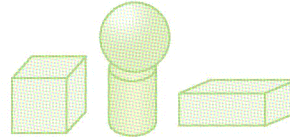
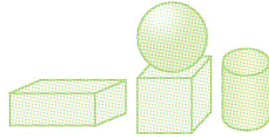


2. 摆对的画“√”，摆错的画“×”。

先放一个圆柱，在它上面放一个球，左边放一个正方体，右边放一个长方体。




美美



果果

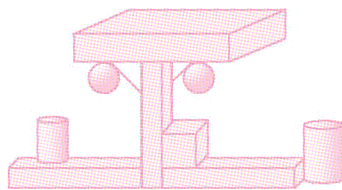
### 六、数一数,填一填。

1



有( )个长方体,有( )个正方体,有( )个球。圆柱比长方体多( )个。

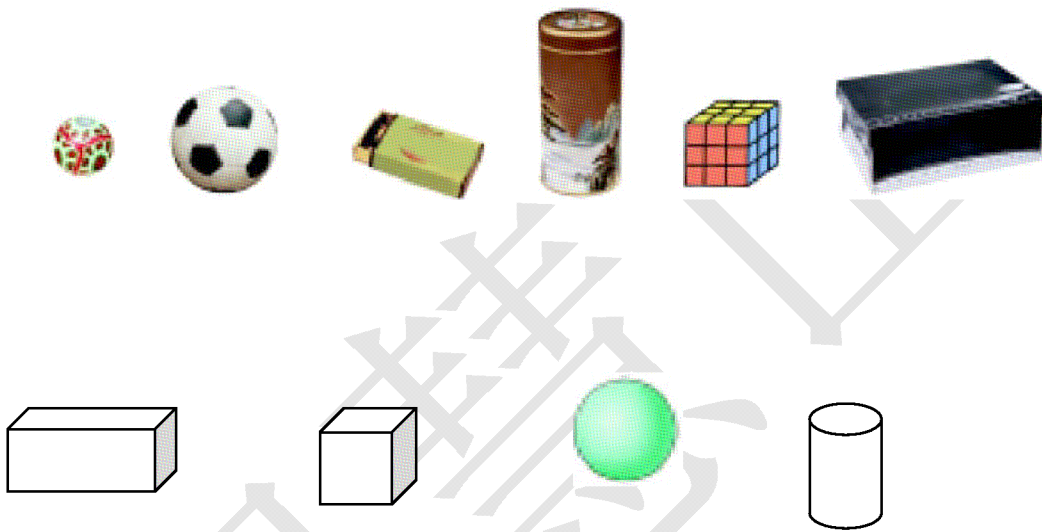
2.



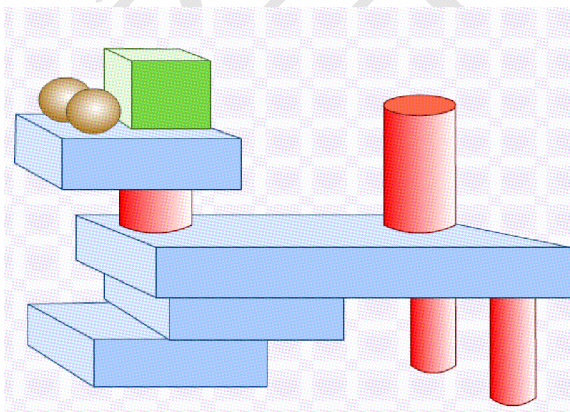
长方体	( )个
正方体	( )个
圆柱	( )个
球	( )个

## 七、练习

### 1、找朋友（连线）



### 2、数一数



正方体	( )个
长方体	( )个
圆柱	( )个
球	( )个