

【北师大版单元测试系列试卷】

一年级数学上册第五单元

智慧山育儿微信公众号



扫描微信扫描二维码关注公众号可持续获取小学阶段的学习资料和老师课程

北师大版一年级数学上册第五单元测验试题

(满分：100分 时间：60分钟)

| | | | | | | | | |
|----|---|---|---|---|---|---|---|----|
| 题号 | 一 | 二 | 三 | 四 | 五 | 六 | 七 | 总分 |
| 分数 | | | | | | | | |

一、圈一圈。

1. 把辣椒右边的蔬菜圈起来。



2. 把西瓜左边的水果圈起来。



二、填一填。


1. 用“前”“后”填空。




(1)  在最()面,  在最()面。

(2)  在  的()面, 在  的()面。

(3)  在  的()面, 在  的()面。




(1) 这一队一共有()只小动物,  的左面是(), 右面是()。

(2)  在()的左面, 在()的右面。

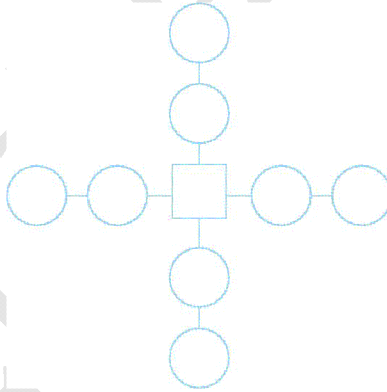
三、下图是欢欢家冰箱的保鲜室,在正确的说法后面画“√”,错误的说法后面画“×”。

1. 青椒的左面是茄子。()
2. 草莓的右面是苹果。()
3. 青椒的下面是茄子。()
4. 西瓜的上面是火腿。()
5. 西瓜的左面是草莓。()



四、涂一涂。

1.




把□左面的○涂上红色;

把□上面的○涂上绿色;

把□下面的○涂上黄色;

把□右面的○涂上蓝色。

2. 将左边的第1只小狗涂上黑色,右边的第1只涂上黄色。



五、解决问题。


1. 小红住在小萍楼上,小萍住在小美楼上,()在最上面,()在最下面。



2. 这一队共有几只小动物?



六、宝物在哪个盒子里?



七、老鼠吃东西。



1. 从上向下数, 在第()行, 从左向右数, 在第()格。
2. 往右走()格, 就能吃到 。
3. 先往左走()格, 再往下走()格就能吃到 。
4. 先往()走()格, 再往()走()格就能吃到 。
5. 要吃 , 应该怎么走?