

## 【北师大版单元测试系列试卷】

### 一年级数学上册第三单元

智慧山育儿微信公众号



扫描微信扫描二维码关注公众号可持续获取小学阶段的学习资料和课程

# 北师大版一年级数学上册第三单元测验试题

(满分：100分 时间：60分钟)

题号	一	二	三	四	五	六	总分
分数							

## 一、算一算。

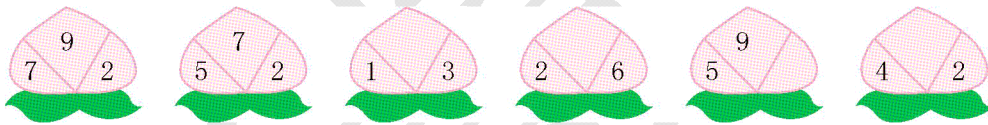
$9-9=$        $4+6=$        $7+1=$        $10-4-3=$        $5+4-2=$

$8+0=$        $5+5=$        $4-3=$        $3+5-8=$        $4+4+2=$

$1+2=$        $3+2=$        $4+1=$        $2+1=$        $2+3=$

$4+1=$        $2+2=$        $5+0=$        $0+0=$        $0+4=$

## 二、找规律,填一填。



## 三、填一填。

$3+( )=5$        $6+( )=9$        $2+( )=8$        $4+( )=7$

$4+( )=8$        $5+( )=7$        $2+( )=6$        $6+( )=10$

$4+( )=5$        $( )+3=4$        $( )+2=5$        $2+4=( )$

$( )+2=5$        $1+( )=3$        $( )+1=8$        $4+4=( )$

## 四、在○里填上“>”“<”或“=”。

$9-2 \bigcirc 9$

$4+5 \bigcirc 10$

$1+8+0 \bigcirc 8$

$8-5+4 \bigcirc 5$

$2+3 \bigcirc 5$

$2+6 \bigcirc 7$

$9-3-5 \bigcirc 7$

$7+2-5 \bigcirc 10$


## 五、看图列式。



$$\square + \square = \square$$



$$\square \bigcirc \square = \square$$




$$\square \bigcirc \square \bigcirc \square = \square$$



$$\square \bigcirc \square \bigcirc \square = \square$$


## 六、解决问题。

1. 一共有几只鹅?




$$\square \bigcirc \square = \square$$

2. 一共有 8 只蚂蚁,树叶下面有几只?




$$\square \bigcirc \square = \square$$

3. 一共有 10 根萝卜,筐里还剩几根萝卜?



$$\square \bigcirc \square = \square$$

4. 小鸡吃米。



一共有几只小鸡来吃米?

$$\square \bigcirc \square \bigcirc \square = \square$$

现在还剩几只小鸡?

$$\square \bigcirc \square \bigcirc \square = \square$$