

【北师大版单元测试系列试卷】

一年级数学上册第二单元

智慧山育儿微信公众号



扫描微信扫描二维码关注公众号可持续获取小学阶段的学习资料和老师课程

北师大版一年级数学上册第二单元测验试题

(满分：100分 时间：60分钟)


| | | | | | | | | |
|----|---|---|---|---|---|---|---|----|
| 题号 | 一 | 二 | 三 | 四 | 五 | 六 | 七 | 总分 |
| 分数 | | | | | | | | |

一、比一比,在正确答案下面画“☆”。

哪辆车高?



哪座楼房矮?



哪个大?




二、比一比,选一选。

最高的画“△”,最矮的画“○”。

最厚的画“△”,最薄的画“○”。






最重的画“△”,最轻的画“○”。


最长的画“△”,最短的画“○”。

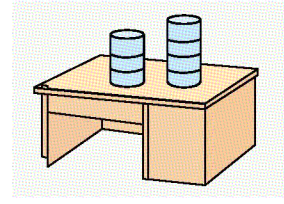






三、想一想,比一比,高的画“√”。









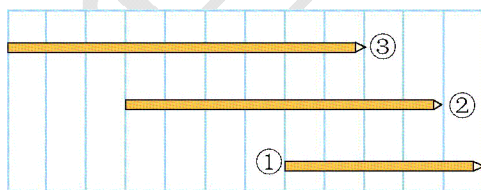
四、想一想,重的画“☆”。



五、最重的画“√”,最轻的画“○”。




六、比一比。




()号最长,()号最短。

七、解决问题。

1.哪条路近?在近路旁画“√”。



2.谁高一些?在高的动物下面画“√”。



3.下面 2 块石头,哪一块放入杯子里,水面会上升得高?画“√”。

