

【北师大版单元测试系列试卷】

一年级数学上册第一单元

智慧山育儿微信公众号



扫描微信扫描二维码关注公众号可持续获取小学阶段的学习资料和课程

北师大版一年级数学上册第一单元测验试题

(满分：100分 时间：60分钟)

| | | | | | | | | | |
|----|---|---|---|---|---|---|---|---|----|
| 题号 | 一 | 二 | 三 | 四 | 五 | 六 | 七 | 八 | 总分 |
| 分数 | | | | | | | | | |

一、连一连。



8

5

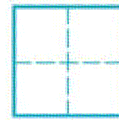
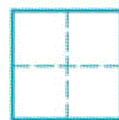
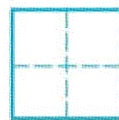
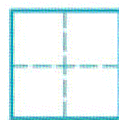
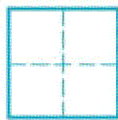



4

7

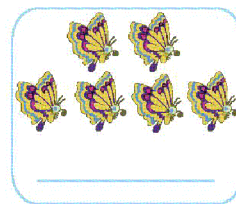



3

6

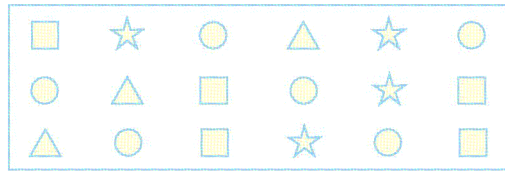
二、看图写数。



三、数一数,画同样多的☆。



四、数一数,圈一圈,比一比。



()最多,()最少。

☆比□(多,少) 4 ○ 5

●比△(多,少) 6 ○ 3

五、数一数,填一填。

1、看图填数



一共有()只小动物,从小鸭这边数, 排第(), 排第()。

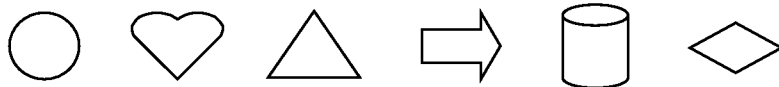
2、看图填数。




比 少_____;

比 多_____。

3、我会看图填空。



(1) 图中一共有()个图形。

(2) 从右往左数,  是第 () 个。

(3) 从左往右数,  排第 ()。

六、按顺序填数。

| | | | | | | | | | |
|---|---|--|---|---|---|--|---|---|----|
| 0 | 1 | | 3 | | 5 | | 7 | | 10 |
| 9 | 8 | | | 5 | | | 2 | 1 | |

七、在○里填上“>”“<”或“=”。

6 ○ 8 10 ○ 7 1 ○ 0 7 ○ 4 9 ○ 9

4 ○ 4 8 ○ 3 5 ○ 9 1 ○ 10 3 ○ 2

八、找一找,写一写。

10 7 0 6 9 3 1 8

比5大的数有 _____ 比5小的数有 _____